






Wolkenarten und ihre Benennung

Arbeitsblatt 3: tiefe Wolken

Bild, Name	Beschreibung, Kennzeichen	Höhe in der Atmo- sphäre über Europa	Wettererscheinungen, Vorkommen
 Stratus (St) Bild: Screenshot aus dem Film Was sind tiefe Wolken und wie werden sie benannt?			
 Stratocumulus (Sc) Bild: Screenshot aus dem Film Was sind tiefe Wolken und wie werden sie benannt?			
 Cumulus (Cu) Bild: Screenshot aus dem Film Was sind tiefe Wolken und wie werden sie benannt?			
 Cumulus congestus Bild: Screenshot aus dem Film Was sind tiefe Wolken und wie werden sie benannt?			
 Cumulonimbus (Cb) Bild: Screenshot aus dem Film Was sind tiefe Wolken und wie werden sie benannt?			

