




## Wolkenarten und ihre Benennung

### Lösungsvorschlag 2: mittelhohe Wolken

Bild, Name	Beschreibung, Kennzeichen	Höhe in der Atmo- sphäre über Europa	Wettererscheinungen, Vorkommen
 <p><b>Altocumulus (Ac)</b></p> <p>Bild: Screenshot aus dem Film <a href="#">Was sind mittelhohe Wolken und wie werden sie benannt?</a></p>			
 <p><b>Altostratus (As)</b></p> <p>Bild: Screenshot aus dem Film <a href="#">Was sind mittelhohe Wolken und wie werden sie benannt?</a></p>			
 <p><b>Nimbostratus (Ns)</b></p> <p>Bild: Screenshot aus dem Film <a href="#">Was sind mittelhohe Wolken und wie werden sie benannt?</a></p>			

