

# LearningApps: Zeitangaben, Uhrzeit, Monate



QR code

8 Uhr

9 Uhr

13 U

Welche Zeit zeigt die Uhr nach einer Sekunde an?  
Tippe dazu die Stunden, Minuten und Sekunden in die Felder.

Anzeige nach **1** Sekunde(n).

QR code

QR code

elf Uhr

halb sieben

zwölf Uhr

halb eins

QR code

QR code

0:01/0:03

15.55

16.05

19:30

Es ist Viertel vor neun.

Es ist neun Uhr.

einunc

QR code

# LearningApps: Zeitangaben, Uhrzeit, Monate






Uhrzeit sprechen! Hilfe

Neue Aufgabe


Gelöst: 0 | Stoppuhr: 0:05

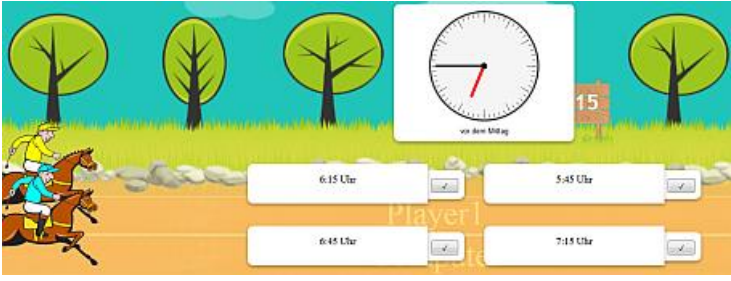


Stunden Minuten








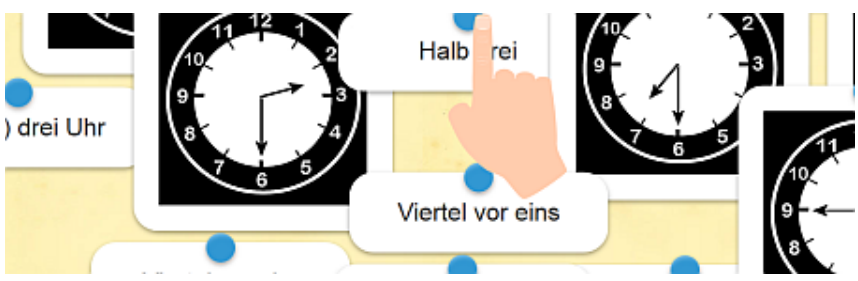
















# LearningApps: Zeitangaben, Uhrzeit, Monate





2

Fünf vor halb...
Fünf vor...
Halb...
Viertel nach/ab...
Viertel vor...
Zehn nach/ab...
Zehn vor...



zwanzig vor fünf


zehn vor sechs





3:30
10:30
halb zehn
halb

nach eins
zehn vor vier
halb zwei
halb z




1 h 20 min =  min


ein Tag (d) =  h

240 s =  min

160 min =  h  min


1 Jahr =  Tage





7:10 Uhr


14:35 Uhr




50 min
25 min

Abfahrt: 23:58 Ankomst: 00:03

Abfahrt: 06:35 Ankomst: 09:25





2h 50 min
25 min

# LearningApps: Zeitangaben, Uhrzeit, Monate