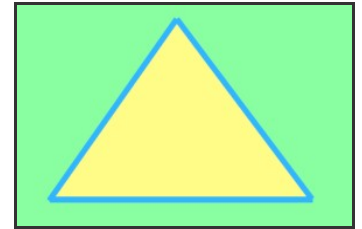


Methode: Schaubild erstellen 23



Herrschaftspyramide

3000 bis 30 v.Chr



Erste Hochkulturen: Ägypten

Modul begonnen: _____ beendet: _____

F	<p>Bei den Ägyptern war klar, wer das Sagen hatte. An der Spitze des Staates stand der Pharao. Aber ein Mensch allein kann nicht das ganze Land verwalten.</p> <p>In diesem Modul sollst du ein Schaubild erstellen, das die Herrschaft im alten Ägypten graphisch darstellt. Kann dir ein Schaubild helfen, die Verteilung der Macht im alten Ägypten besser zu verstehen?</p>
M	<p>M1 Text: Herrschaft im Alten Ägypten</p> <p>Der Pharao stand als König an der Spitze der ägyptischen Gesellschaft. Er traf alle wichtigen Entscheidungen, musste das Land aber auch gegen Feinde schützen. Unter ihm stand der Wesir, der oberste Beamte, der die Verwaltungsaufgaben für den Pharao übernahm. Priester, Offiziere und Schreiber standen unter seinem Befehl. Schreiber sind einfache Beamte, die über ganz Ägypten verteilt lebten und z.B. Steuern eintraben. Die meisten Menschen in Ägypten waren Bauern. Etwas besser als den Bauern ging es oft den Kaufleuten und Handwerkern. Die Wissenschaft streitet darüber, ob es auch Sklassen im alten Ägypten gab. Erst gegen Ende des alten Ägyptens lässt sich Sklaverei belegen. Zur Zeit des Pyramidenbaus im 3. Jahrtausend v. Chr. gab es offenbar noch keine Sklassen. eigener Text</p>
1 <input checked="" type="checkbox"/>	<p>Lies dir den Text M1 sorgfältig durch. Schreibe anschließend die Überschrift „Herrschaftspyramide“ in deine Geschichtsmappe und zeichne darunter ein gleichseitiges Dreieck, das eine Pyramide darstellen soll. Die Seiten des Dreiecks sollen mindestens 12 cm lang sein. Erstelle ein Schaubild zur Machtverteilung im alten Ägypten. Trage dafür die unterstrichenen Begriffe aus dem Text in dein Schaubild ein. Du kannst auch kleine Bilder zu den Begriffen und Personen malen.</p>
2 <input checked="" type="checkbox"/>	<p>Kannst du dir mit Hilfe des Schaubildes die Machtverteilung im alten Ägypten besser vorstellen? Notiere die Vorteile und die Nachteile in eine Tabelle mit zwei Spalten.</p>
3 <input checked="" type="checkbox"/>	<p>Zusatzaufgabe: Was hältst du davon, dass in einer Gesellschaft ein einzelner Mensch die ganze Macht in seinen Händen hält? Vervollständige folgenden Satz: „Der Pharao steht alleine an der Spitze der ägyptischen Gesellschaft – das finde ich ...“</p>
A	<p>Das Schaubild ...</p> <hr/> <hr/> <hr/>
E	<p>Wie erfolgreich hast du dieses Modul bearbeitet? Kreuze an: <input type="checkbox"/> erfolgreich <input type="checkbox"/> nicht erfolgreich <input type="checkbox"/> erfolgreich Begründe:</p> <hr/>
<p>   segu von C.Pallaske steht unter einer Creative Commons Namensnennung-Weitergabe unter gleichen Bedingungen 3.0 Unported Lizenz Bildnachweis: Pyramiden von Gizeh: wikimedia.org (Urheber: Ricardo Liberato, Creative Commons-Lizenz); Grafik: C.Pallaske </p>	