



Erste Hochkulturen: Ägypten

Startermodul 21 Grüne Lebensader Nil

3000 bis 30 v.Chr.

Modul begonnen: _____ beendet: _____




In Ägypten entwickelte sich vor über 5000 Jahren eine der ersten Hochkulturen. Als Hochkultur wird eine Gesellschaft bezeichnet, die Merkmale eines Staates aufweist: Es gab einen Herrscher, den Pharao. Er trieb Steuern ein, ließ sich prachtvolle Gebäude errichten und unterhielt auch ein Heer, um das Land gegen Feinde zu verteidigen. Die Ägypter hatten eine Schrift (die Hieroglyphen) und kannten in ihrer Religion eine Vielzahl von Göttern.

Auf dem Foto in der Mitte siehst du, wie Ägypten heute aus dem Weltall aussieht. Die grüne Lebensader Ägyptens ist der Nil. Auf der Karte sind drei Orte am Nil rot markiert. Wo stehen die Pyramiden von Gizeh? Und wo wurden die Büste der Nofretete und das Grab des Tutanchamuns gefunden?

Zu jedem der markierten Orte auf der Karte gehören ein Foto und je zwei Kästchen mit Text. Verbinde die drei Kästchen und den Ort mit einer Linie. Trage in jedes Text-Kästchen das fehlende Wort ein. Unten findest du diese Worte. Aber Achtung! Drei Worte sind falsch und werden gar nicht benötigt. Informiere dich im Schulbuch, eventuell auch im Schulatlas.

1

Grab Tutanchamuns




Über 4000 Jahre lang war die größte von ihnen das höchste Bauwerk der Welt. Erbaut hatte sie der Pharao _____.

Das Original steht im Neuen Museum auf der Museumsinsel in _____.

Deutschland und Ägypten streiten seit vielen Jahren darüber, wer der rechtmäßige Besitzer ist.

Seine Totenmaske ist das bekannteste Kunstwerk des alten Ägyptens. Fundort war das das Tal der Könige in der Nähe von _____.

Büste der Nofretete




Der Fund des Briten _____


im Jahr 1922 ist bis heute eine der spektakulärsten Entdeckungen der Archäologie.

Vielen gilt die Gipsfigur der Frau des Pharaos _____ als der schönste Kunstschatz aus dem alten Ägypten. Die Büste wurde 1912 in Tell el-Armana ausgegraben.

Pyramiden von Gizeh



Man findet sie im Stadtgebiet der heutigen Hauptstadt Ägyptens, in _____.



Cheops Assuan München Echnaton Theben Berlin Vilnius Carter Kairo