

**Arbeitsblatt  
Mathematik (Ebene Figuren)**

Klasse 5/6  <b>Station 1 Bruchteile</b>	Einstieg/Vorbereitung
---	-----------------------

Nutze die Geometrieteile (z. B. aus Plaste von [www.HEWA-MAMUD.de](http://www.HEWA-MAMUD.de)).

Gib an, welche geometrischen Figuren dir vorliegen.  
Vergleiche mit einem Mitschüler.  
Wende dich bei Fragen an deinen Lehrer.

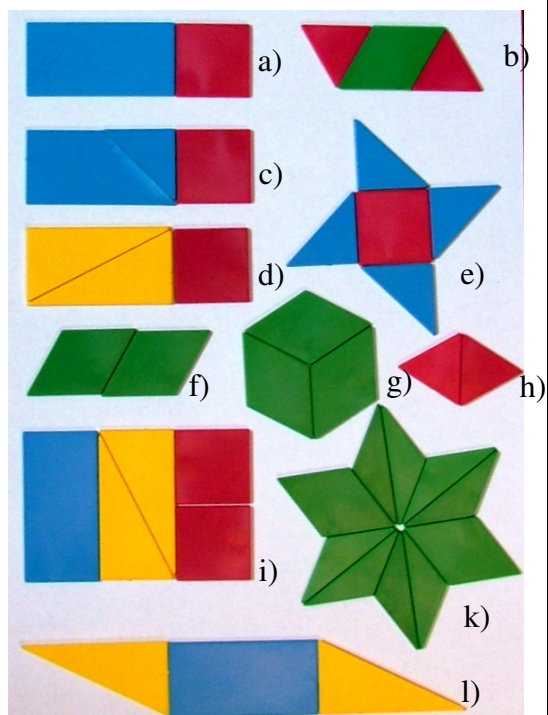
Klasse 5/6  <b>Station 1 Bruchteile</b>	Aufgabe 1
---	-----------

Lege mindestens 5 Figuren nach.

Gib für jedes Teil den zugehörigen Bruchteil an.

Tip: Nutze das Arbeitsblatt.

Gib die dir bekannten zugehörigen Prozente an.



Klasse 5/6

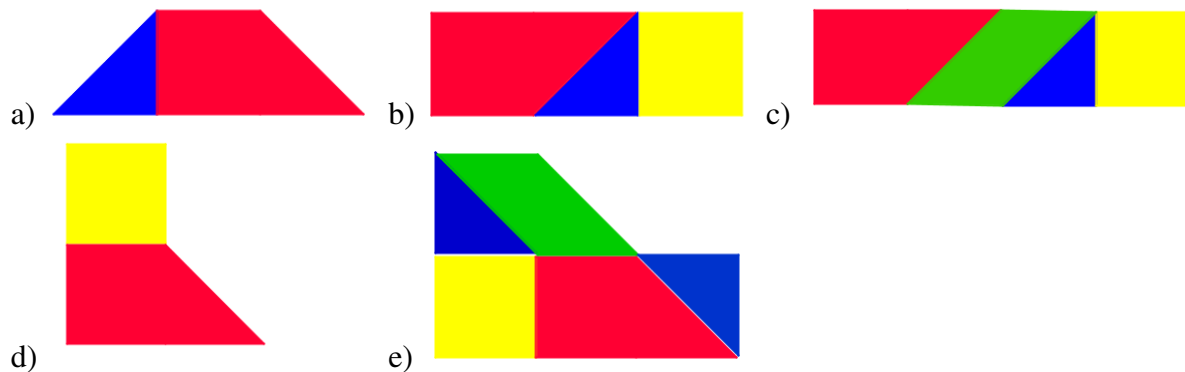
Aufgabe 2

**Station 1  
Bruchteile**

Lege mindestens drei Figuren nach.

Gib für jedes Teil den zugehörigen Bruchteil und die dir bekannten zugehörigen Prozente an.  
Erstelle selbst ein weiteres Beispiel mit Lösung.

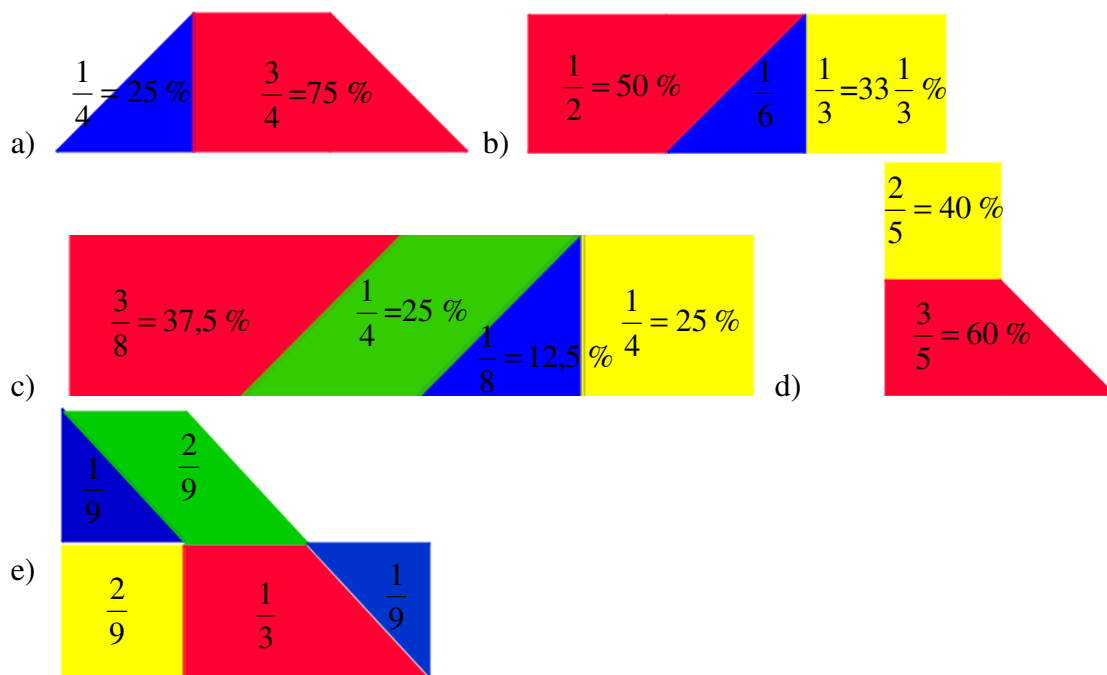
Tipp: Du kannst dein Beispiel mit Dynamischer Geometriesoftware erstellen.



Klasse 5/6

Lösung zu Aufgabe 2

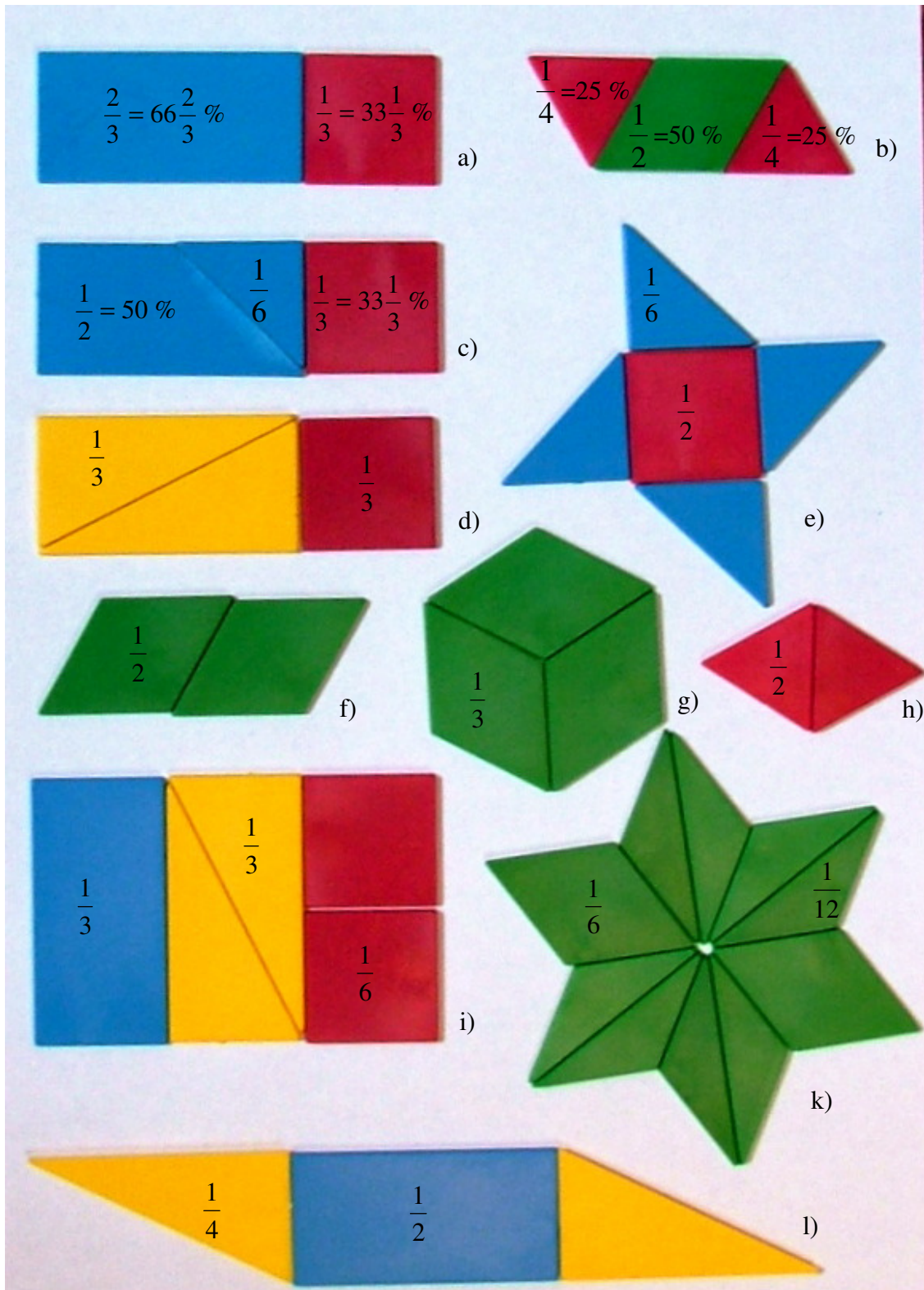
**Station 1  
Bruchteile**



Klasse 5/6

Lösung zu Aufgabe 1

Station 1  
Bruchteile



**Arbeitsblatt zur Station 1 – Aufgabe 1**

Lege mindestens 5 Figuren nach.  
Gib für jedes Teil den zugehörigen Bruchteil an.  
Gib die dir bekannten zugehörigen Prozente an.

